

**勘誤**

## 第1回 p.1-2

27. ( ) 構築施工架之木料可 ① 使用完整之木料必考量外觀及\_\_度 ② 木料外層使用油漆塗料來增加使用年限 ③ 使用樹皮完全剝離且無顯著損及強度裂縫之木料 ④ 木料如有裂縫可以用繩索將裂縫固定即可。

選項①有缺字，更正為「使用完整之木料必考量外觀及**強度**」

## 第1回 p.1-3

42. ( ) 消防安全設備之裝置、檢修僅能由 ① 開業建築師 ② 室內裝修專業施工技術人員 ③ **消防設備師及消防設備師** ④ 室內裝修專業設計技術人員 為之。

選項③文字重複，修正為「消防設備師及**消防設備士**」

## 第1回 p.1-4

49. ( ) 設鋁製門窗的熱傳導係數為 4.45，木製門窗為 1.14 則表示何這隔熱效果較差？ ① 鋁製門窗 ② 木製門窗 ③ 材質不同無法比較 ④ 木製門窗無隔熱效果

原答案為②木製門窗，修正為**①鋁製門窗**

## 第1回 p.1-4

57. ( ) 塗料皆有害健康，故使用時須 ① 注意通風及使用安全防護裝備 ② 關閉門窗 ③ 工作人員定期施以健康檢查 ④ 工作人員可以邊抽菸邊進行工作。

原答案為④，修正為**①注意通風及使用安全防護裝備**

## 第4回 p.4-2

13. ( ) 影響塗膜壽命最大之因素為 ① 顏料與溶劑 ② 塗膜厚度 ③ 表面處理 ④ 樹脂與顏料。  
題目修正為「影響**金屬**塗膜壽命最大的因素為」

## 第5回 p.5-3

40. ( ) 下列敘述何者正確？ ① 濕式輕隔間其耐震力較差，牆面吊掛重物之能力也較差 ② 濕式輕隔間其耐震力較差，但乾式輕隔間牆面吊掛重物之能力較差 ③ 濕式輕隔間其耐震力及吊掛重物之能力比\_\_式輕隔間較佳 ④ 乾式輕隔間其耐震力較差但濕式輕隔間其吊掛重物之能力較佳。

選項③有缺字，應補為：濕式輕隔間其耐震力及吊掛重物之能力比「**乾**」式輕隔間較佳

## 第5回 p.5-2

21. ( ) 三角柱體為幾面體①一個②二個③三個④四個。

題目應修改為三角錐體為幾面體，原答案④無誤，三個面再加一底面為四個面。

## 第6回 p.6-5

65. ( ) 下列何者非火災之特性 ① 成長性 ② 變化性 ③ 擴充性④偶發性

原選項③「擴大性」應更正為「擴充性」，答案為③

## 第9回 p.9-2

16. ( ) 我國『勞工安全衛生法施行細則』規定噪音在 ① 85 分貝 ② 90 分貝 ③ 75 分貝 ④ 80 分貝以上之作業，屬於特別危害身體健康之作業。

原答案為 ③ 75 分貝，修正為 ① 85 分貝

依據：勞工健康保護規則第 2 條規定：「所稱特別危害健康之作業，指下列作業：  
2. 勞工噪音暴露工作日八小時日時量平均音壓級在八十五分貝以上之噪音作業。」

第 10 回 p.10-4

41. ( ) 正六角窗，以三角形分割其每一三角形內角和等於 ① 135 度 ② 120 度 ③ 180 度 ④ 360 度。

原答案②應修正為③60 度\*3=180 度

第 13 回 p.13-2

14. ( ) 氣體的比容與壓力 ① 成正比 ② 成反比 ③ 成等比 ④ 成對比，壓力加大比容減小，壓力減低則比容增大。

原答案為①成正比，修正為② 成反比

第 13 回 p.13-3

32. ( ) CPM 要徑法之要徑為工期最長者，且浮時為 ① 5 ② 3 ③ 0 ④ 1 條要徑來比較。

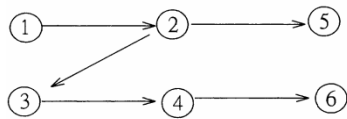
原題目「且浮時為」更正成「且浮時**最多**為」。

第 13 回 p.13-3

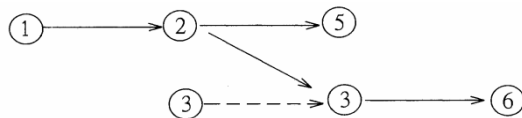
41. ( ) 下列網狀圖何者正確？

選項②、④圖面印刷重疊，正確圖示如下

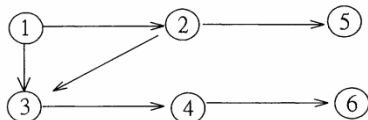
①



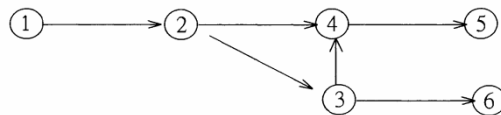
②



③



④



第 13 回 p.13-4

47. ( ) 下列敘述何者正確 ① 木材含水率隨環境之  度與濕度而變化 ② 木材含水率隨地質環境而變化 ③ 木材含水率隨種植者之用心而變化 木材含水率隨環境之溫度與日照量而變化。

選項①缺字應該補為「木材含水率隨環境之**溫**度與濕度而變化」。

第 19 回 p.19-5

61. ( ) 室內裝修繪製立面繪製圖面時，原建築結構（如版、**梁**、柱或牆）之位置均以 ① 虛線 ② 單線 ③ 破折線 ④ 雙線 繪製來表現。

題目文字更正：「**梁**」應更正為「**梁**」

第 21 回 p.21-5

75. ( ) 雇主於 ① 二年內 ② 一年內 ③ 六個月內 ④ 三個月內 不得對申訴安全衛生違規事項之勞工予以解雇或調職處分。

原答案為②一年內，修正為③**六個月內**

第 23 回 p.23-2

24. ( ) 樓梯間防火安全門以安裝下列那一種們所最為理想 ① 喇叭鎖 ② 扳手鎖 ③ 彈簧鎖 ④ 推杆或壓杆是門鎖。

選項口更正錯字為：推杆或壓杆「式」門鎖

---

第 23 回 p.23-3

47. ( ) 撲救電氣設備火災之滅火劑應使用 ① 水 ② 泡沫 ③ 乾粉 ④ 二氧化碳。

答案不變，修改選項：④水霧

---

第 25 回 p.25-6

74. ( ) 依建築技術規則規定，住宅至少應有幾間居室之窗可直接獲得日照 ① 所有居室 ② 三居室 ③ 二居室 ④ 一居室。

原答案①所有居室，修正答案為④一居室

---

第 29 回 p.29-4

59. ( 1 ) 若減光率為 90%，則其光學密度為： ① 10dB ② 20dB ③ 30Db ④ 40db。

修正選項④之單位：④ 40dB

---

第 31 回 p.31-6

74. ( ) 台電公司供電( 如包燈、綜合電力… )的種類共有① 3 種 ② 5 種 ③ 7 種 ④ 9 種。

原答案為②，修正為④ 9 種

依據：93 年歷年考題，答案有五或九種。最後修改公布為九種。包燈、表燈、低壓綜合、高壓綜合、低壓電力、高壓電力、包用電力、特高壓電力、臨時用電等九種。

---

第 32 回 p.32-3

11. ( ) 細實線一般用於繪製何種用途之線條①破斷線 ②中心線 ③剖面外形線 ④隱蔽線。

本題題目選項③「外形線」應改為「剖面外形線」。依 CNS 線條用途之規定，細實線一般用於剖面外形線之線條。

第 32 回 p.32-3

31. ( ) 下列敘述何者為誤 ① 三角形內角何為 180 ② 五角形內角和為 540 ③ 四角形內角何為 360 ④ 六角形內角何為 270°。

文字更正：選項①、③、④中的內角『何』，更正為內角『和』

第 32 回 p.32-5

62. ( ) 面材鋪貼施工前，所會之細部詳圖，謂之 ① 結構圖 ② 施工大樣圖 ③ 建築圖 ④ 設備圖。

文字更正：題目中的『會』更正為『繪』。

---

第 33 回 p.33-8

三十三回 第 42 題解析：CS—懸臂板；BW—承重牆。樓梯梯板—SS；牆梁—WB

解答欄文字更正：『梁』應更正為『梁』

---

第 35 回 p.35-6

80. ( ) 木材防腐法中塗佈法最常用之藥劑為 ① 送材，主軸，立軸 ② 送材，立軸，主軸 ③ 主軸，立軸，送材 ④ 主軸，送材，立軸。

更正選項內容 ①油漆 ②假漆 ③焦油④桐油。解答③不變

---

第 37 回 p.37-2

14. ( ) 圓柱形之正投影圖中，可能有一視圖之圖形何者為非 ① 長方形 ② 直線 ③ 圓形 ④ 斜線。

更正題目為：直立圓柱立體圖形在正投影圖之圖形為

更正答案為：①長方形

---

第 38 回 p.38-1

3. ( ) 下列何者非為高層消防安全設計之主要目的？ ① 保障人命安全 ② 避免財物損失 ③ 維護高樓耐用 ④ 建築美觀。

原選項③維護高樓耐用，改為「維護公共安全」

4. ( ) 自來水中所謂『硬水』其以CaCo<sub>3</sub> 之含量來表示，其值小於多少謂之？ ① 90 ② 100 ③ 110 ④ 120 PPM。

原題目「其值小於多少謂之」更正為：「其值大於多少謂之」

10. ( ) 蒸發氣結霜時低壓壓力會 ① 不變 ② 下降 ③ 上升 ④ 忽高忽低。

原題目「蒸發氣」更正為「蒸發器」

---

第 38 回 p.38-3

37. ( ) 尿素膠是一種合成樹脂膠合劑。一經接觸就不能移動 ① 白膠 ② 尿素膠 ③ A、B 膠 ④ 強力膠。

原題目「一經接觸就不能移動」改為「但一經接觸就不宜移動的黏著劑謂為」

---

第 39 回 p.39-4

52. ( ) 冰水流量開關應裝設在 ① 冰水泵之入水端 ② 冰水泵之出水處至冰水器之入口處 ③ 冰水氣之出口端 ④ 只要在冰水管路中任何處皆可。

選項②冰水氣之出口端，更正為：冰水「器」之出口端

---

第 42 回 p.42-1

3. ( ) 無氣式噴圖時，一般噴射寬幅約 ① 3cm ② 30cm ③ 200cm ④ 2000cm。

原題目：無氣式噴『圖』時，更正為：無氣式噴『塗』時

---

第 42 回 p.42-5

63. ( ) 下列哪一像 是用電不當的做法？ ① 開關箱裝置護板 ② 使用電纜線 ③ 以銅線或鐵線當保險絲使用 ④ 機具故障時，先切斷電源。

題目更正：下列哪一『像』是用電不當的做法？應更正為『項』

---

93 年度建築物室內設計乙級技術士歷屆試題 p.1-3

2. ( ) 依 CNS 圖說標準，建築圖符號 HL. VL. CL. 分別代表 ① 垂直線、水平線、中心線、天花板線 ② 中心線、垂直線、天花板線、水平線 ③ 中心線、水平線、天花板線、垂直線 ④ 中心線、水平線、垂直線、天花板線。

由於題目不完整，當年該題給分

---

94 年度建築物室內設計乙級技術士歷屆試題 p.1-4

9. ( ) 供行動不便者使用之避難層出入口、室內出入口其淨不得小於幾公分：① 75cm ② 90cm  
③ 80cm ④ 90cm。

選項②與④重複，修正選項：④ 85cm

---

95 年度建築物室內設計乙級技術士歷屆試題 p.1-6

47. (1)  此符號在平面圖中代表 ① 雙拉窗 ② 上下拉窗 ③ 雙拉門 ④ 折疊門。

此題未有圖示造成題意不清楚，補符號圖示

---

第 5 回 p.5-3 第 36 題

第 36 回 p.36-6 第 77 題

98 年度建築物室內設計乙級技術士歷屆試題 p.1-4 第 51 題 修正如下：

- ( ) 下列四種水泥砂漿配合比例之中，乾燥後可能產生龜裂，何者為最大？① 1：1 ② 1：2  
③ 1：3 ④ 1：4。

更正答案為：④ 1：4

---